

Våra världsdelar och kontinenter

1. Hur många är de stora kontinenterna och vad heter de?

2. Hur många världsdelar finns det? _____

3. Vilka två världsdelar ligger på samma kontinent? Vad heter den kontinenten?

Klimatfrågor

4. Beskriv vad som menas med klimat. _____

5. Vilka fyra klimatzoner har vi på jorden? _____

6. Beskriv vad som menas med tropiskt klimat. _____

7. I den tempererade klimatzonen skiljer man dessutom på kustklimat och inlandsklimat. Förklara skillnaden mellan kustklimat och inlandsklimat.

8. Fyll i tabellen om klimatzoner i Europa. Titta även på sid. 10 om Europas natur.

| Klimatzoner i Europa | polarklimat | tempererat klimat | subtropiskt klimat |
|-----------------------------------------------|-------------|-------------------|--------------------|
| Beskriv hur det är | | | |
| Beskriv hur det är | | | |
| Hur ser naturen ut? | | | |
| Nämna tre länder som finns i denna klimatzon. | | | |

Naturfrågor

1. Vilka olika naturtyper finns det i Europa? _____

2. Beskriv vad som är typiskt för tundran? _____

3. Beskriv vad som är typiskt för macchian? _____

4. Titta på kartan på sid 10 och leta upp tre länder där det finns:

a) TUNDRA _____

b) TAJGA _____

c) LÖVSKOG _____

d) MACCHIA _____

5. Varför tror du att stora delar av det europeiska lövskogsområdet har blivit uppodlat eller används till betesmark?

Europas befolkning

6. Ungefär hur många människor bor det i Europa? _____

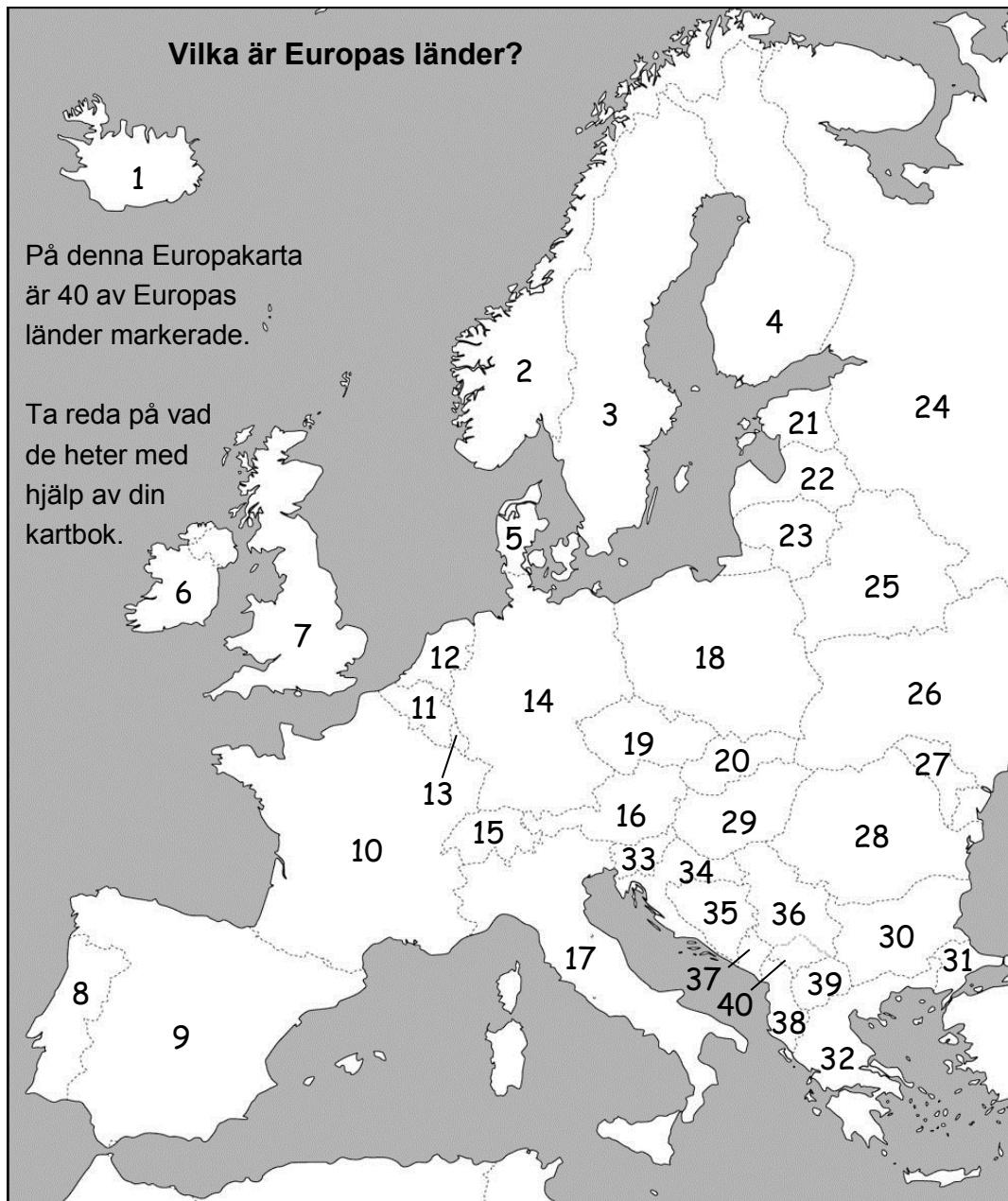
7. Titta på kartan på sid 13. Ge exempel på några länder som är tätbefolkade.

8. Ge exempel på några länder som är glest befolkade.

9. Vilka fördelar tror du det kan finnas med att bo i ett glesbefolkat område?

10. Vilka fördelar tror du det kan finnas med att bo i ett tätbefolkat område?

11. Många ungdomar i Europa flyttar till andra länder. Vad skulle kunna få dig att vilja flytta till ett annat land? _____



- | | | |
|----------|----------|----------|
| 1 _____ | 14 _____ | 27 _____ |
| 2 _____ | 15 _____ | 28 _____ |
| 3 _____ | 16 _____ | 29 _____ |
| 4 _____ | 17 _____ | 30 _____ |
| 5 _____ | 18 _____ | 31 _____ |
| 6 _____ | 19 _____ | 32 _____ |
| 7 _____ | 20 _____ | 33 _____ |
| 8 _____ | 21 _____ | 34 _____ |
| 9 _____ | 22 _____ | 35 _____ |
| 10 _____ | 23 _____ | 36 _____ |
| 11 _____ | 24 _____ | 37 _____ |
| 12 _____ | 25 _____ | 38 _____ |
| 13 _____ | 26 _____ | 39 _____ |
| | | 40 _____ |

Jordklotet och kontinentaldrift

1. Om du tänker dig att jordklotet kan ses i genomskärning. Vilka fyra delar kan jordklotet då delas in i? _____

2. Vad är Pangea? _____

3. Vad kallas de stora plattor som jordskorpan är uppdelad i?

4. Hur tror man att jorden kommer att se ut om 250 miljoner år?

5. Hur har bergskedjan Himalaya bildats? _____

6. Vad kallas magman när den når jordytan? _____

7. Förklara med egna ord varför man kan säga att ön Island är en bergstopp.

8. Vad är en tsunami och hur kan den uppstå?

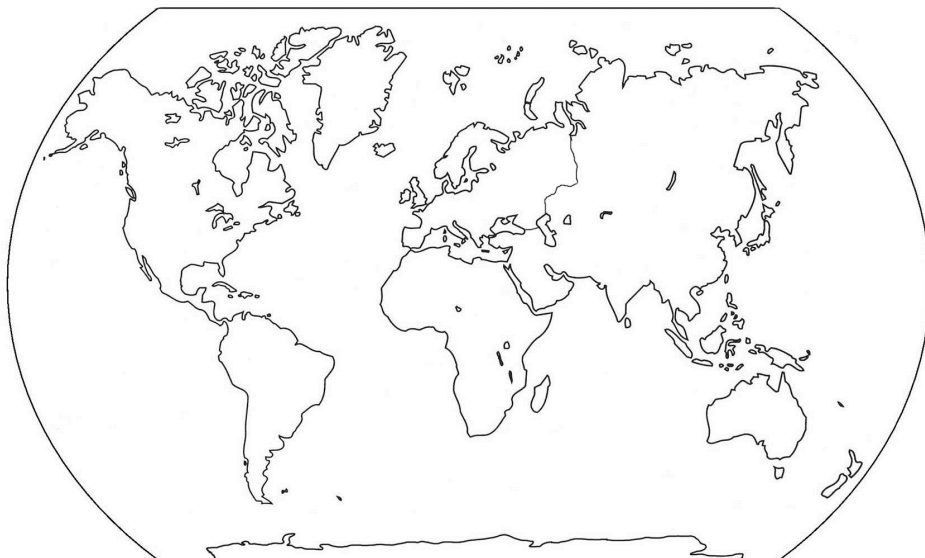
9. Förklara med egna ord hur bergskedjor kan bildas?

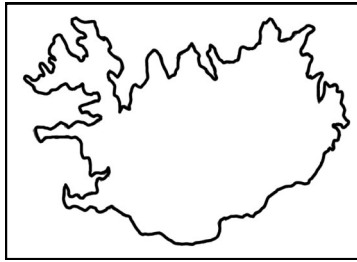
10. Titta på sidan 20.

Försök att rita ut de olika kontinentalplattorna så noga du kan.

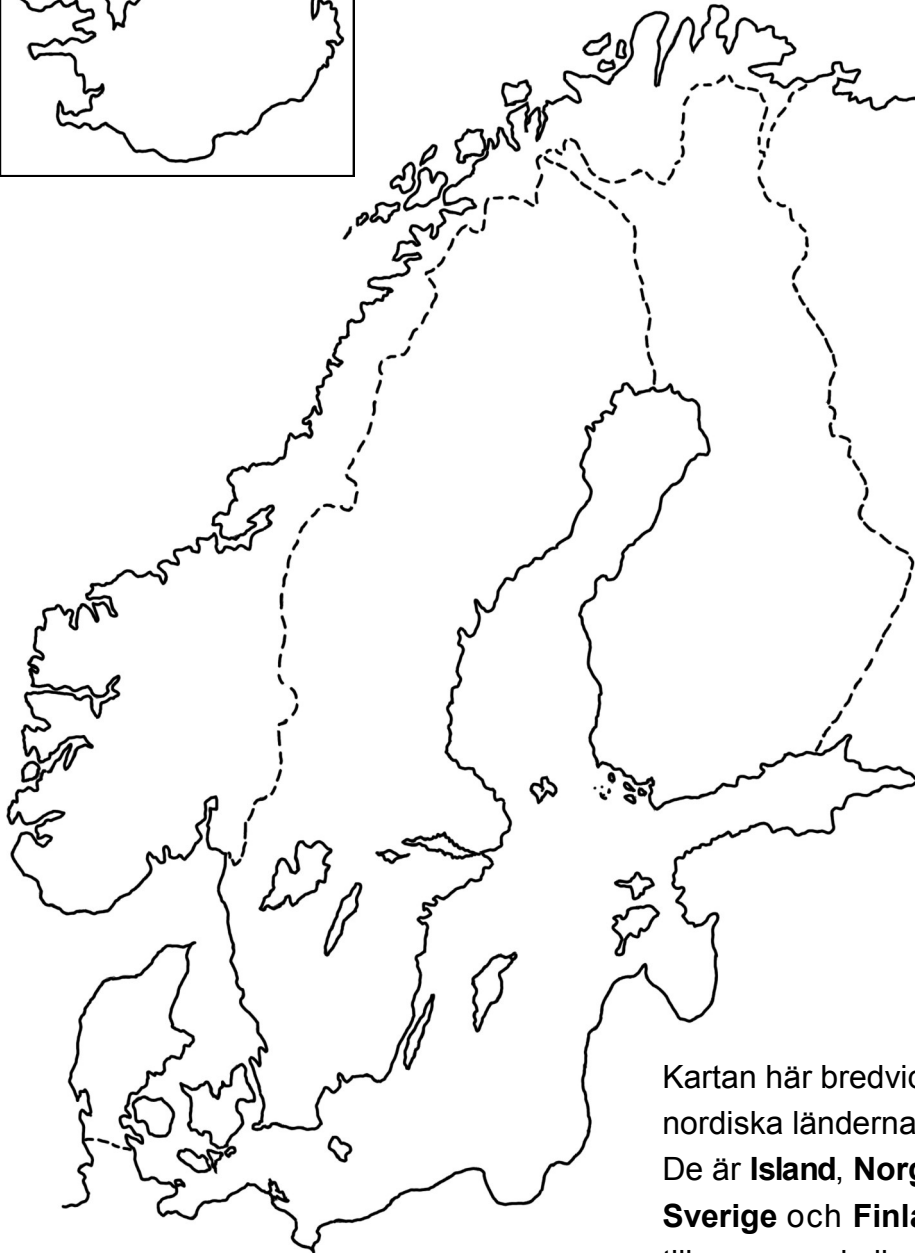
Om du hinner kan du färglägga de olika kontinenterna i olika färger.

Sätt även ut deras namn på kartan.





Länder och hav i Norden



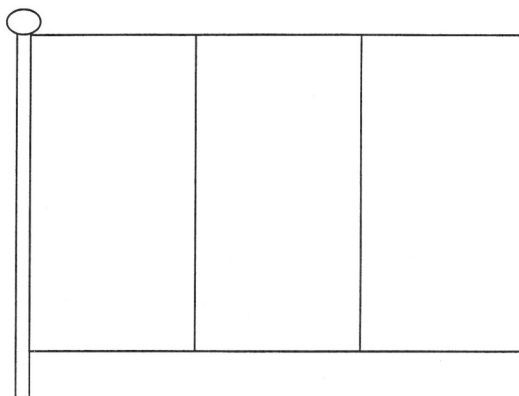
Kartan här bredvid visar de nordiska länderna. De är **Island, Norge, Danmark, Sverige** och **Finland**. De brukar tillsammans kallas för **Norden**.

Använd din kartbok när du löser uppgifterna.

1. Sätt ut namnen på de fem nordiska länderna på kartan.
2. Markera de fem nordiska ländernas huvudstäder på kartan och skriv även ut deras namn.
3. Måla länderna i olika färger.
4. Sätt ut följande hav på kartan:

Norska havet, Östersjön, Bottenhavet, Bottenviken, Finska viken, Kattegatt och Skagerrak.

Måla Frankrikes flagga.

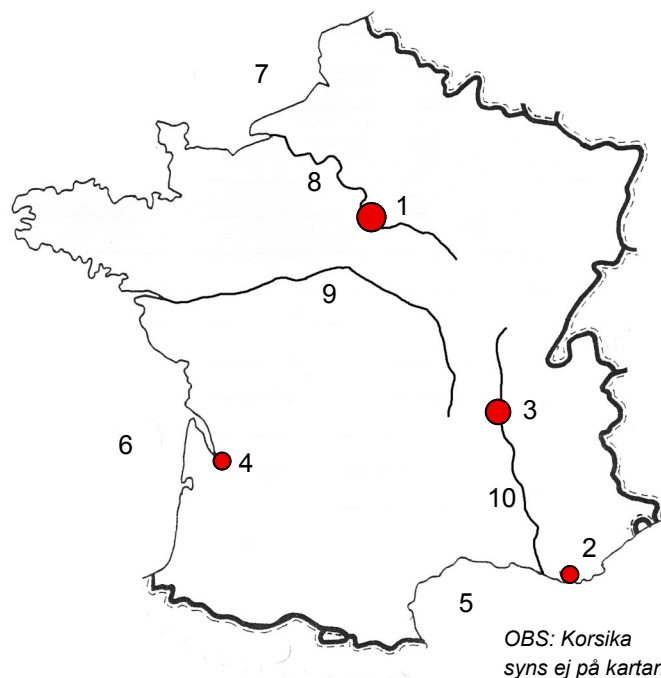


Frankrikes karta

Ta fram din kartbok och slå upp **Frankrike**.

Vilka platser är markerade på kartan här bredvid?

1. P tätort
2. M tätort
3. L tätort
4. B tätort
5. M vatten
6. B vatten
7. E vatter
8. S vatter
9. L vatter
10. R vatter



Frågor om Frankrike

1. Vad skulle du helst vilja besöka ifall du fick åka som turist till Frankrike?

2. Vilka franska bilmärken kan du?

3. På vilka sätt betyder turismen mycket för Frankrike?

Energifrågor

1. Solen ger allt levande energi. Kan du ge några exempel på detta.

2. På vilket sätt är solenergin avgörande för att vattnets kretslopp ska fungera?

3. Här nedanför kan du se några exempel på olika energikällor.

Vilka av dem är förnybara och vilka är icke förnybara?


Sätt in de olika energikällorna på rätt plats i tabellen.


| | Förnybara energikällor | Icke förnybara energikällor |
|----------------|------------------------|-----------------------------|
| vindkraft | | |
| naturgas | | |
| solenergi | | |
| olja | | |
| vågkraft | | |
| kol | | |
| tidvattenkraft | | |
| uran | | |
| vattenkraft | | |




Mera om energi och hållbar framtid

1. Här nedan ser du några bilder på olika energikällor. Skriv några fakta om varje bild.









2. Vilka energikällor kallas även för fossila bränslen? _____

3. Hur har fossila bränslen bildats? _____

4. Vilka nackdelar finns med att använda fossila bränslen? _____

5. Vad tycker du är viktigast när det gäller att välja energikällor inför framtiden? .
