

20-kronorssedel


0 - 20



En 20-kronorssedel är värd tjugo kronor eller 20 kr.

Måla sedeln och bilden av Astrid Lindgren i rätt färger.

Måla de tre leksaker som tillsammans kostar 20 kronor.




12 kr



4 kr



6 kr



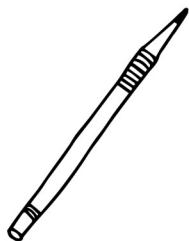
10 kr

Skriv in talen så att summan blir 20 kr.


$$20 \text{ kr} = \underline{\quad} \text{ kr} + \underline{\quad} \text{ kr} + \underline{\quad} \text{ kr}$$

Vardagsräkning 3


0 - 20



2 kr



3 kr



4 kr

Rita och räkna.

Zia har 10 kronor.
Hon vill köpa två saxar.
Räcker pengarna?

Svar: _____



Zia

Leo har 10 kronor.
Han vill köpa sex pennor.
Räcker pengarna?

Svar: _____



Leo

Lova har 10 kronor.
Hon vill köpa tre ritblock.
Räcker pengarna?

Svar: _____



Lova