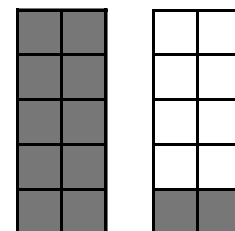
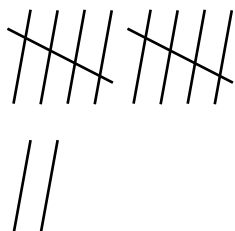


Talet 12

12

tolv



Måla tio barn i blå kläder och två barn i rosa kläder.  $10 + 2 = 12$

Skriv talet 12.

12				



## Addition 1 - 12

Moa matar två fåglar.


Då kommer det en fågel till.

Nu finns där tre fåglar.

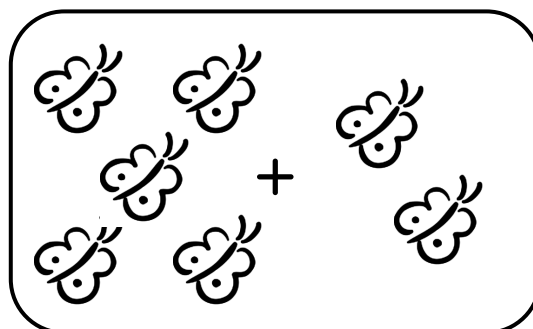
$$2 + 1 = 3$$

Två plus ett är lika med tre.

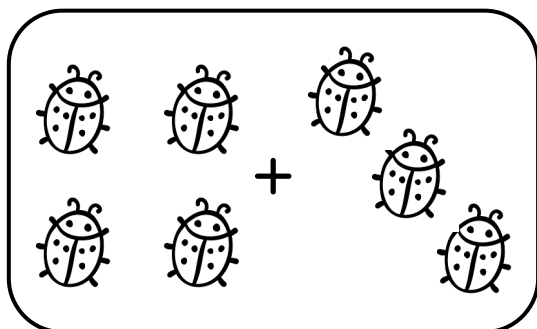
Berätta en räknesaga om bilden. Skriv additionen.



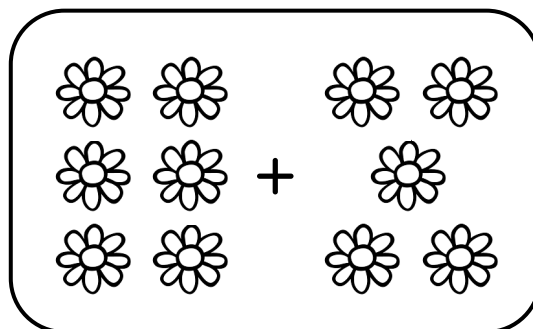
$$\boxed{2} + \boxed{2} = \boxed{\phantom{00}}$$



$$\boxed{\phantom{00}} + \boxed{\phantom{00}} = \boxed{\phantom{00}}$$



$$\boxed{\phantom{00}} + \boxed{\phantom{00}} = \boxed{\phantom{00}}$$



$$\boxed{\phantom{00}} + \boxed{\phantom{00}} = \boxed{\phantom{00}}$$