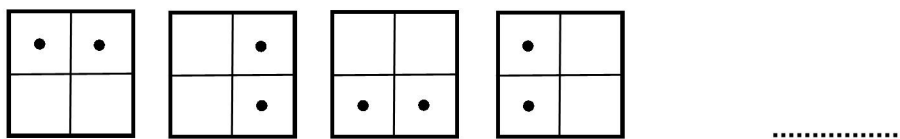
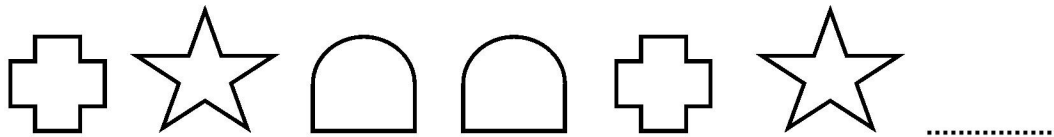




Figurer i långa rader

Titta på de olika figurerna i de olika raderna!

Kan du se att de olika figurerna i varje rad är placerade enligt ett visst mönster? Kan du lista ut vilken figur som blir nästa i varje rad?

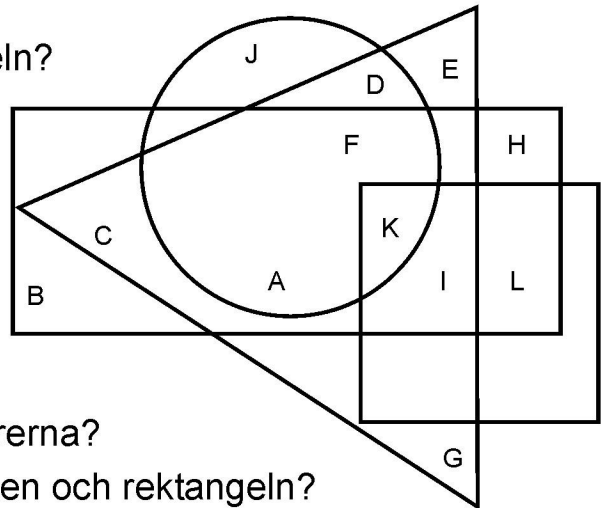
Rita figuren sist i raden!



Vilken bokstav?

Titta noga på bilden och svara på frågorna!

- Vilka bokstäver står bara i triangeln?
- Vilken bokstav står bara i cirkeln?
- Vilken bokstav står bara i cirkeln och triangeln?
- Vilka bokstäver står bara i rektangeln?
- Vilken bokstav står i alla fyra figurerna?
- Vilken bokstav står bara i kvadraten och rektangeln?
- Vilken bokstav står både i rektangeln, triangeln och kvadraten?
- Vilka bokstäver står både i rektangeln, triangeln och cirkeln?



Följ instruktionerna och rita de olika sakerna på rätt plats i figurerna!

- Rita ett äpple i endast rektangeln.
- Rita en sol i endast kvadraten.
- Rita en fisk i endast triangeln.
- Rita ett päron i endast cirkeln.
- Rita en stjärna så att den bara står i rektangeln och kvadraten.
- Rita en fågel så att den bara står i cirkeln och triangeln.
- Rita en banan så att den bara står i cirkeln och rektangeln.
- Rita en katt så att den bara står cirkeln, triangeln och kvadraten.
- Rita en blomma så att den samtidigt står i alla fyra figurerna.
- Måla den yta som bildas av bara triangeln, kvadraten och rektangeln.

