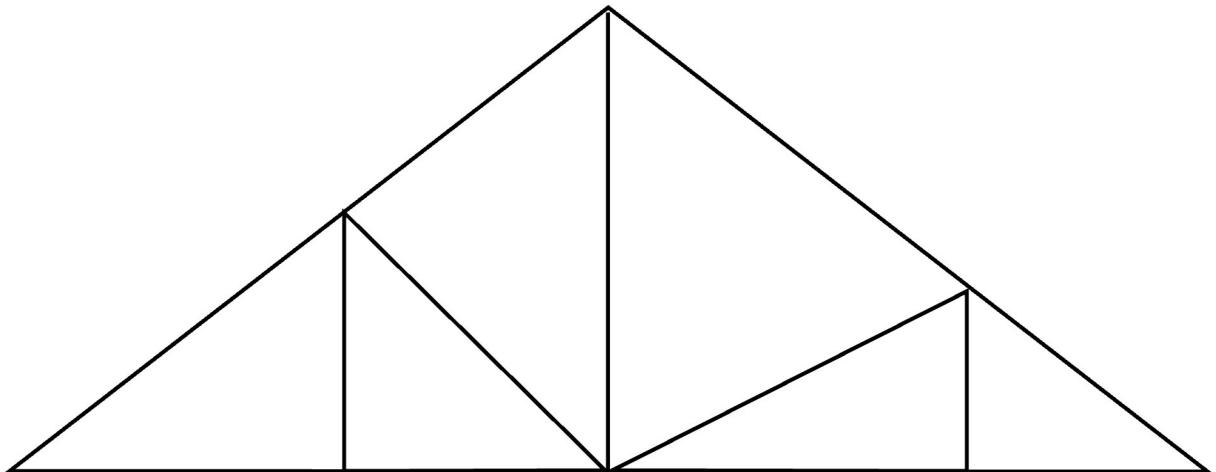


Trianglar

Hur många trianglar av olika storlekar kan du hitta ?



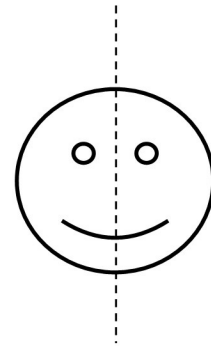
Om du hinner kan du rita och måla ett mönster som bara består av trianglar. Måla sedan ditt mönster!



Symmetri



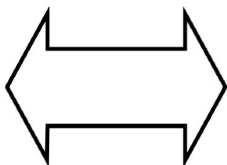

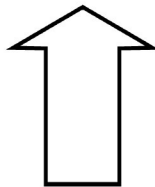
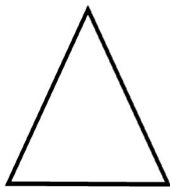
Den här figuren är **symmetrisk**.

Den består av två halvor som ser likadana ut. Figuren delas av en symmetri-linje.



Kan du hitta symmetri-linjen i dessa figurer?

Rita in linjerna med linjal!



Rita och måla egna figurer som är symmetriska!

