

Vår värld

En **jordglob** visar hur vår värld ser ut.

Vatten, **hav** och **oceaner** har blå färg på jordgloben. Nästan tre fjärdedelar av jordens yta täcks av vatten. Därför kallas **jorden** ibland för **den blå planeten**.

Landområdena kallas **kontinenter** eller **världsdelar**. Land har ofta grön, gul eller brun färg på jordgloben. Kalla områden med is och snö brukar vara vita.



Längst upp på jorden finns **Nordpolen** och längst ner finns **Sydpolen**. De två polerna är jordens kallaste platser.

Jordgloben delas in i två halvor av en linje, som kallas för **ekvatorn**. Vid ekvatorn är vädret varmt under hela året.

Den övre delen av jorden, som ligger norr om ekvatorn, kallas för det **norra halvklotet**. Den nedre halvan av jorden, som ligger söder om ekvatorn, kallas för det **södra halvklotet**.



Nord- och Sydpolen är jordens kallaste platser.

Skriv in rätt svar. Välj bland orden i rutan.

~~ekvatorn~~ Nordpolen södra halvklotet Sydpolen norra halvklotet

Jordgloben delas in i två halvor av en linje som kallas ekvatorn.

Den övre delen av jorden kallas för det _____.

Den nedre delen av jorden kallas för det _____.


_____ och _____ är jordens kallaste platser.

Länder och flaggor i Nordamerika

Varje **land** har en egen **flagga**.
 Flaggan är en **symbol** för landet.



Land: Mexico
 Huvudstad: Mexico City



Land: USA
 Huvudstad: Washington



Land: Jamaica
 Huvudstad: Kingston



Land: Cuba
 Huvudstad: Havanna



Land: Canada
 Huvudstad: Ottawa

Dra streck till rätt svar.

- Mexico City är huvudstad i ● USA.
 Washington är huvudstad i ● Mexico.
 Kingston är huvudstad i ● Canada.
 Havanna är huvudstad i ● Jamaica.
 Ottawa är huvudstad i ● Cuba.

Länder och sevärheter i Sydamerika

I **Sydamerika** finns **12 länder**.

Brasilien och **Argentina** är de största länderna i Sydamerika.

São Paulo i Brasilien och Buenos Aires i Argentina är de två största städerna i Sydamerika.

I Brasilien talar man portugisiska, men i de flesta andra länderna i Sydamerika talar man spanska.

Amazonas indianer har bott i regnskogen i tusentals år. De har alltid levt av jakt, fiske och vilda växter.

Andernas indianer föder upp lamadjur för att få mjölk och ull. De använder laman som lastdjur.

Bönderna i Sydamerika har odlat majs, potatis och tomater i flera hundra år.

Dra streck till rätt svar.

- | | |
|--------------------------|---------------------|
| Machu Picchu ligger i ● | ● Brasilien. |
| Kristusstatyn finns i ● | ● Peru. |
| Titicacasjön ligger i ● | ● Venezuela. |
| Angelafallen finns i ● | ● Ecuador. |
| Galápagosöarna tillhör ● | ● Bolivia och Peru. |




Kristusstatyn står på en bergstopp högt över staden Rio de Janeiro i Brasilien.



Bergsstaderna Machu Picchu byggdes för 500 år sedan av inkafolket. Idag finns ruinerna kvar i Peru.



Titicacasjön är världens högst belägna sjö. Den ligger på gränsen mellan Bolivia och Peru.



Angelfallen i Venezuela är världens högsta vattenfall. De är 976 meter höga.





På Galápagosöarna, som tillhör Ecuador, finns uråldriga och sällsynta djur.

Mitt klassrum

Se dig omkring i klassrummet.
 Titta på väggar, dörrar och fönster.
 Räkna efter hur många skåp, hyllor, bord
 och stolar som finns i ditt klassrum.
 Se noga efter vilka andra saker som finns
 i klassrummet. Försök sedan föreställa dig
 hur klassrummet och alla sakerna ser ut uppifrån.

Rita en karta över klassrummet.

Du kan börja med väggar, dörrar och fönster.
 Rita sedan in möbler och andra mindre saker.
 Till sist kan du skriva in ditt eget namn och
 dina klasskamraters namn på era platser
 i klassrummet.



Norr, söder, väster och öster

Sverige är ett avlångt land.

De tre största städerna i Sverige är **Stockholm**, **Göteborg** och **Malmö**.

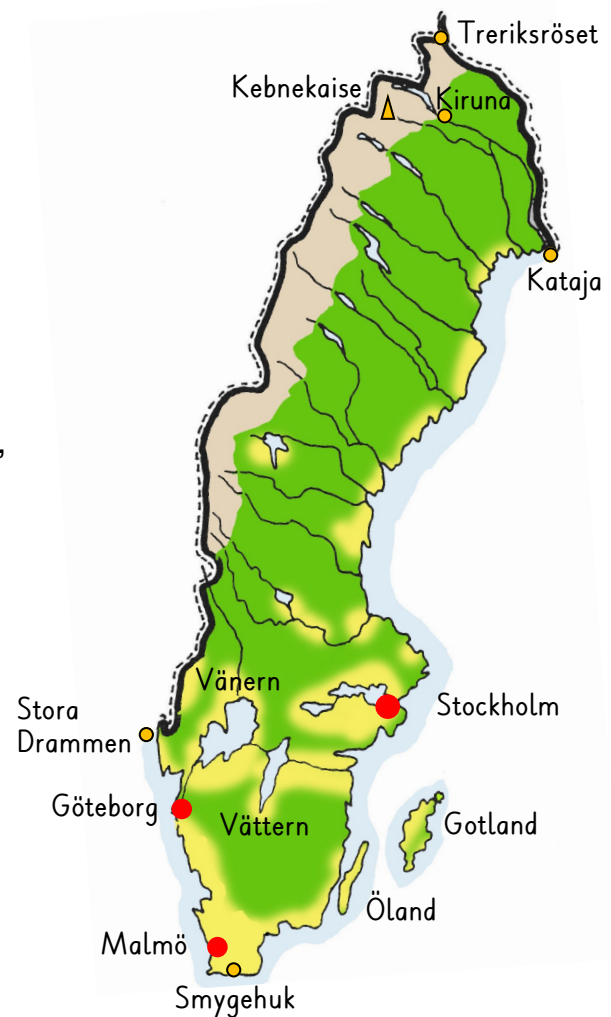
Allra längst upp i norr ligger **Treriksröset**. Det är den plats där Sveriges, Norges och Finlands gränser möts.

I norra Sverige finns Sveriges högsta berg, **Kebnekaise**. Det är 2 099 meter högt. Sveriges nordligaste stad heter **Kiruna**.

Längst ner i söder ligger hamnen i fiskeläget **Smygehuk**.

Längst i väster ligger den lilla ön eller klippan **Stora Drammen**.

Längst i öster ligger ön **Kataja**. Gränsen mellan Sverige och Finland går rakt över den lilla ön.



SANT eller FALSKT? Ringa in rätt svar.

Stockholm ligger öster om Göteborg.

SANT

FALSKT

Malmö ligger norr om Kiruna.

SANT

FALSKT

Smygehuk ligger söder om Treriksröset.

SANT

FALSKT

Kataja ligger väster om Stora Drammen.

SANT

FALSKT

Vänern ligger öster om Vättern.

SANT

FALSKT

Öland ligger väster om Gotland.

SANT

FALSKT

Kebnekaise ligger väster om Kiruna.

SANT

FALSKT