

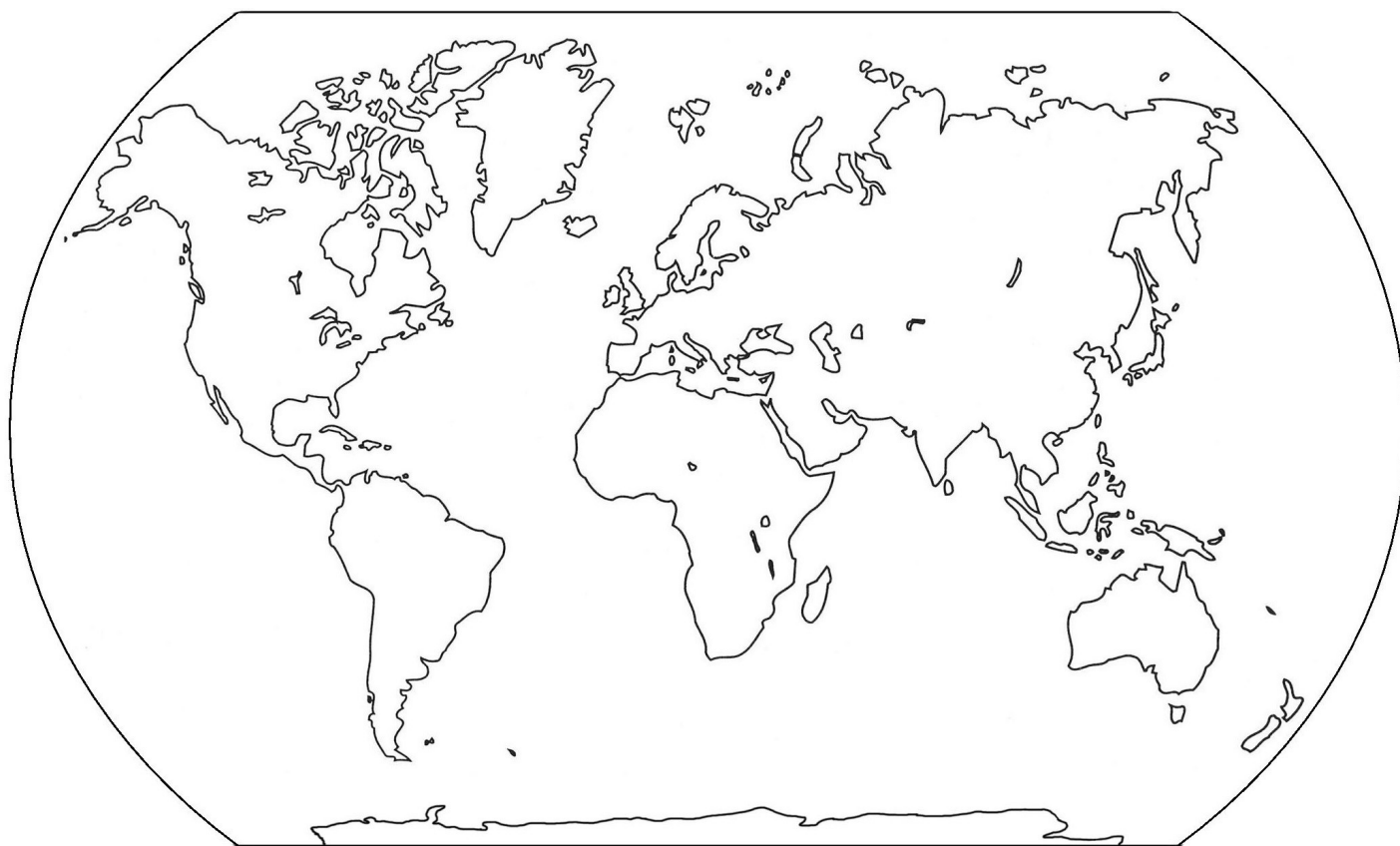
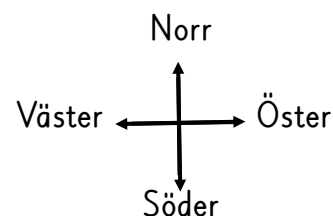
## Världskartan

En världskarta visar hela världen eller jorden på en gång.  
Den runda jordgloben har plattats ut till en karta.

En karta visar inte havens och landområdenas verkliga storlek.  
De har krympts för att få plats på ett papper eller i en bok.  
Kartan är en förminskad bild av verkligheten.

En karta kan även visa åt vilket håll norr ligger. Det brukar finnas  
en bild av en kompass, som visar väderstreckens riktningar på kartan.  
De fyra viktigaste väderstrecken är norr, söder, väster och öster.

Titta på en jordglob eller världskarta.  
Måla vatten och hav med blå färg.  
Måla land med grön, gul eller brun färg.  
Låt områdena vid Nordpolen och Sydpolen vara vita.



## Världsdelarna

Man brukar dela in jordens stora landområden i världsdelar eller kontinenter.

Det finns sju stora världsdelar. Det är Europa, Asien, Afrika, Nordamerika, Sydamerika, Oceanien och Antarktis.

Världsdelarna Europa och Asien bildar kontinenten Eurasien tillsammans.

Europa, Asien och Nordamerika ligger på det norra halvklotet.

Halva Afrika ligger på det norra halvklotet och halva på det södra halvklotet. Sydamerika, Oceanien och Antarktis ligger på det södra halvklotet.

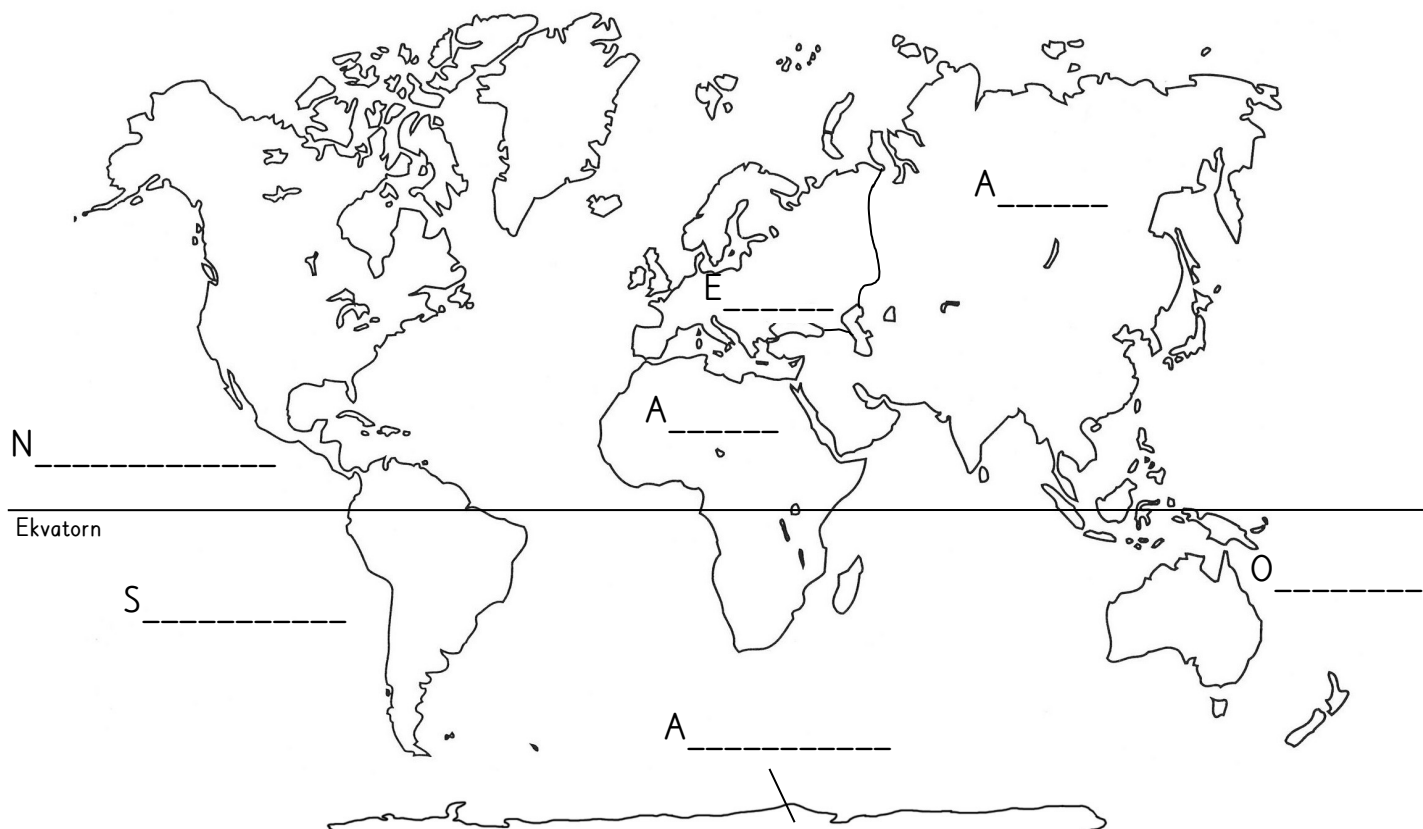
När vi har vinter i Sverige långt norrut på det norra halvklotet är det sommar hos dem som bor långt söderut på det södra halvklotet.

Titta på en jordglob eller världskarta.

Skriv in världsdelarnas namn på rätt rad.

Måla världsdelarna i olika färger.

Europa    Asien    Nordamerika    Afrika    Sydamerika    Oceanien    Antarktis



## Länder och flaggor i Europa

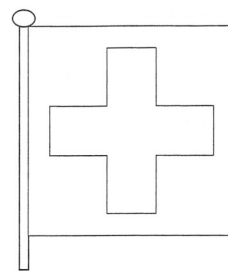
Varje land har en egen flagga. Flaggan är en symbol för landet.

Leta upp Europas flaggor i en kartbok eller på internet.

Måla varje lands flagga med rätt färger.

Skriv in huvudstadens namn under flaggan.

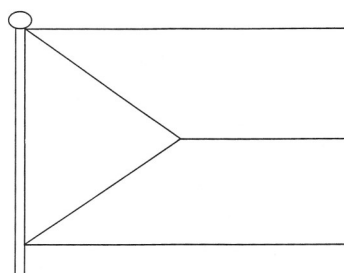
Måla landet på kartan med rätt färg.



Schweiz

Huvudstad: \_\_\_\_\_


Måla landet rött.



Tjeckien

Huvudstad: \_\_\_\_\_

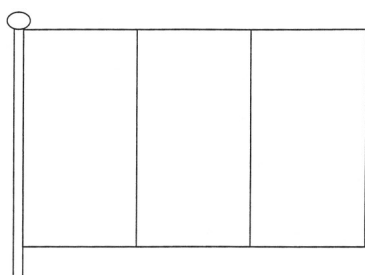
Måla landet svart.



Spanien

Huvudstad: \_\_\_\_\_

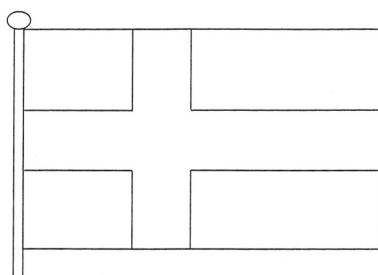
Måla landet gult.



Rumänien

Huvudstad: \_\_\_\_\_

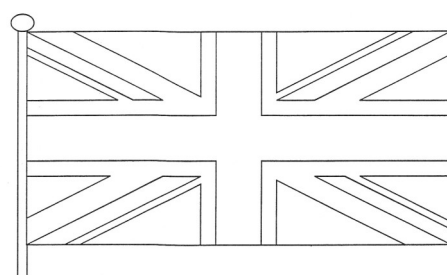
Måla landet brunt.



Sverige

Huvudstad: \_\_\_\_\_

Måla landet blått.



Storbritannien

Huvudstad: \_\_\_\_\_

Måla landet grönt.

## Länder och sevärdheter i Asien


Asien är den största världsdelen. Det finns 49 länder i Asien.

Mer än hälften av alla människor på jorden bor i Asien. Indien och Kina är de två länder som har flest invånare. Flera av världens största städer finns i Asien.

I Asien finns många olika kulturer och religioner. Där finns mängder av vackra platser, byggnader och tempel.




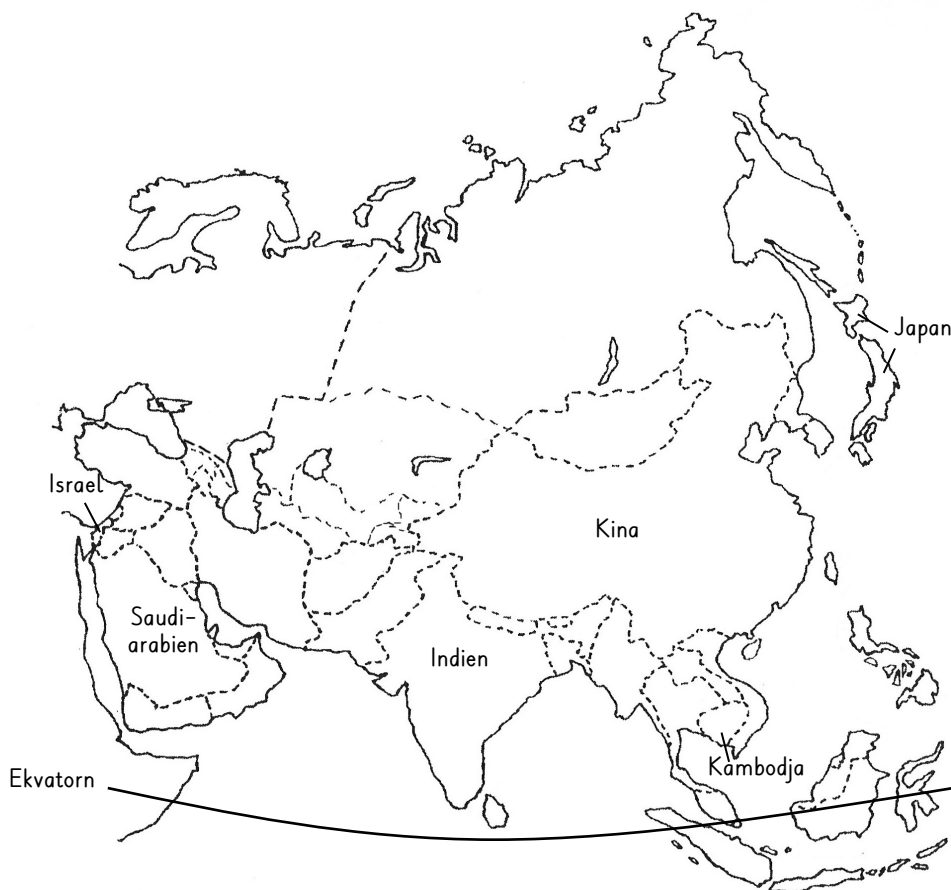
Fuji är Japans högsta berg. För många japaner är berget heligt. De dyrkar berget som en gud. Måla Japan rött.




Den kinesiska muren är mer än 6 000 kilometer lång. Den byggdes som skydd mot fiender. Måla Kina brunt.




I Jerusalem i Israel finns rester av en gammal mur. Många judar besöker klagomuren för att be. Måla Israel blått.



Många muslimer vallfärdar till staden Mecka i Saudiarabien. Måla Saudiarabien svart.



I Angkor i Kambodja finns vackra tempelruiner överallt i djungeln. Måla Kambodja gult.




En indisk härskare lät bygga Taj Mahal som gravplats åt sin fru. Måla Indien grönt.


## Djur och natur i Afrika

Afrika ligger både på norra och södra halvklotet.  
Ekvatorn går rakt över Afrika.


Vid ekvatorn är det varmt och där regnar det varje dag.  
I regnskogen lever gorillor och schimpanser.  
En bit därifrån på savannen växer det högt gräs.  
På savannen lever giraffer, sebror, elefanter och lejon.  
I norra och södra Afrika finns öknar. I norr ligger Sahara,  
som är världens största öken.




I Algeriet i Sahara bor ett folkslag som heter beduiner. De använder kameler som riddjur och lastdjur.  
Måla Algeriet orange.




Nilkrokodilen lever i floden Nilen i Egypten och Sudan. Nilen är en av världens längsta floder.  
Måla Egypten ljusblått och Sudan mörkblått.




Flodhästen finns i floder och sjöar. I floden Zambesi i Moçambique lever flodhästar.  
Måla Moçambique grått.



Giraffen äter blad från höga träd på savannen i Tanzania.  
Måla Tanzania brunt.



Schimpansen lever uppe i träden i regnskogen i Kamerun.  
Måla Kamerun grönt.



Strutsar lever i flockar på savannen i Namibia.  
Måla Namibia rött.

## På promenad


Nu ska du få gå på en kort promenad tillsammans med din klass. Ni kan gå till ett bibliotek, en park, en lekplats, en skogsdunge eller till någon annan plats ni vill besöka.

Innan ni går iväg ska ni mycket noga se efter hur det ser ut vid er skola. När ni lämnar skolgården går ni kanske ut på en väg eller en stig och ni får kanske gå över ett övergångsställe.

Under er promenad ska ni då och då stanna upp och titta efter vilka saker ni passerar. Finns där några stora träd eller hus? Ser ni någon bäck, damm eller sjö? Går ni över någon bro?

När ni kommer fram till er plats ska ni samlas och tala om vad ni sett på er promenad. På vägen tillbaka till skolan tittar ni noga på allt ni passerar en gång till.

När du är tillbaka i skolan ska du sitta en stund och tänka på den väg du gått och på de saker du sett. Rita sedan en karta över er promenad.



## Skolvägen

Sitt en stund och tänk efter hur din skolväg ser ut.  
Bor du nära eller långt ifrån skolan? Vad passerar du på vägen till och från skolan?

Rita en karta över din skolväg. Börja med att rita in ditt hus, din skola samt gator och vägar på din karta. Rita sedan in några olika saker som du passerar på vägen till skolan.

Skriv även in namn på gator, platser och saker som du ritat in på din karta. Rita in din skolväg och färglägg kartan.




## Våra väderstreck

Det finns fyra väderstreck: *norr, söder, väster och öster*.

Norr är riktningen mot Nordpolen och söder är riktningen mot Sydpolen.

När klockan är 12 (sommartid klockan 13) står solen i söder.

Om du ställer dig som pojken på bilden gör, så kan du med hjälp av väderstrecksramsans ta reda på var du har de fyra väderstrecken.



Om jag står vänd så här och solen värmer nacken, då har jag norr så där likt skuggan uppå backen, och väster är åt vänster, och öster är åt höger, och söder är åt solen, åt solen varm och kär.

*Klockan tolv av L.G. Sjöholm*

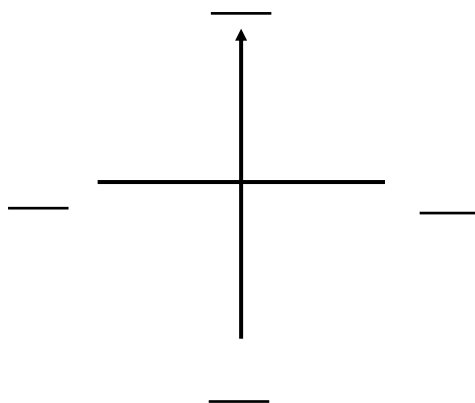
På en karta är norr alltid uppåt och söder är alltid neråt.

Väster är åt vänster och öster är åt höger på kartan.

Det brukar finnas en pil på kartan som pekar mot norr.

Norr förkortas N, söder förkortas S, väster förkortas V och öster Ö.

Skriv in N, S, V och Ö på rätt linje runt pilen.



Gå ut på skolgården klockan 12 (sommartid klockan 13) och ta reda på åt vilka riktningar de fyra väderstrecken finns.

Rita en pil på marken med en krita och skriv in N, S, V och Ö.