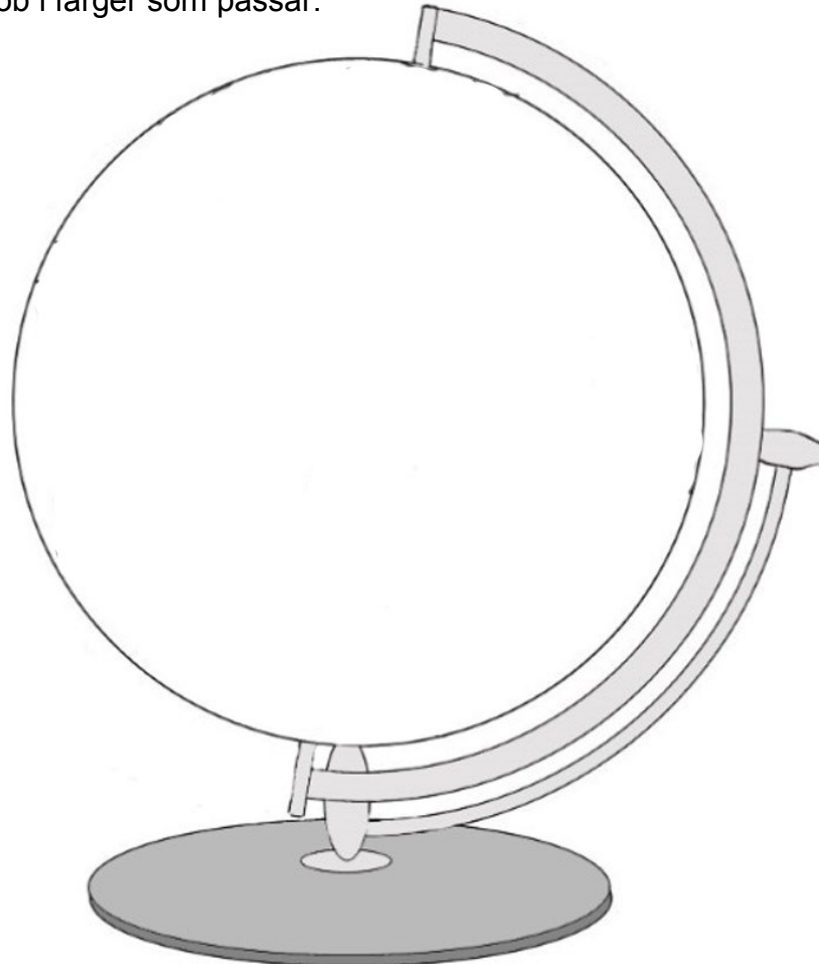


Jorden är rund - Jordgloben - Nordpolen och Sydpolen

1. Här ska du rita en egen jordglob med kontinenter och oceaner.

Rita även in Nordpolen och Sydpolen.

Måla din jordglob i färger som passar.



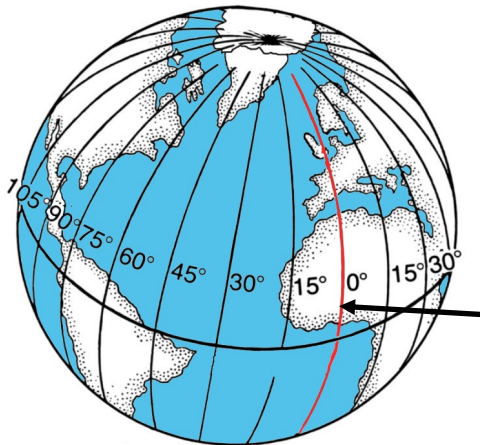
2. Varför började man begripa på 1500-talet att jorden är rund och att jorden och planeterna snurrar runt solen?

3. Vilken präst från Polen påstod redan år 1507 att jorden är rund?

4. Varför är det vanligt att Nordpolen och Sydpolen är vitmålade på en jordglob?

Gradnät - Längdgrad - Breddgrad - Vändkretsar - Polcirklar

1. Vad kallas det rutnät som oftast
finns inritat på en jordglob?



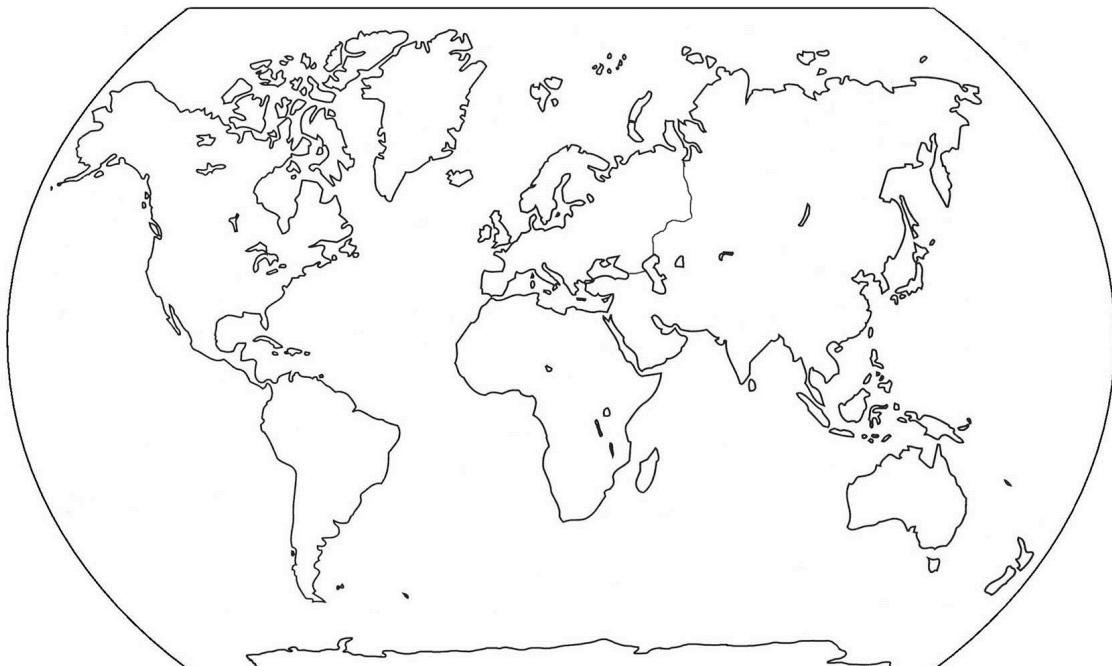
2. Vad kallas längdgrader med ett annat namn?

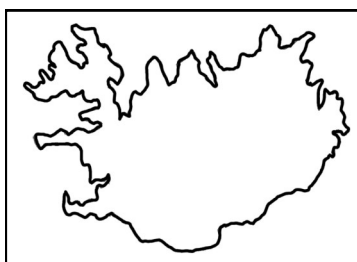
3. Vilken särskild längdgrad pekar pilen mot?

4. Vad kallas breddgrader med ett annat namn?

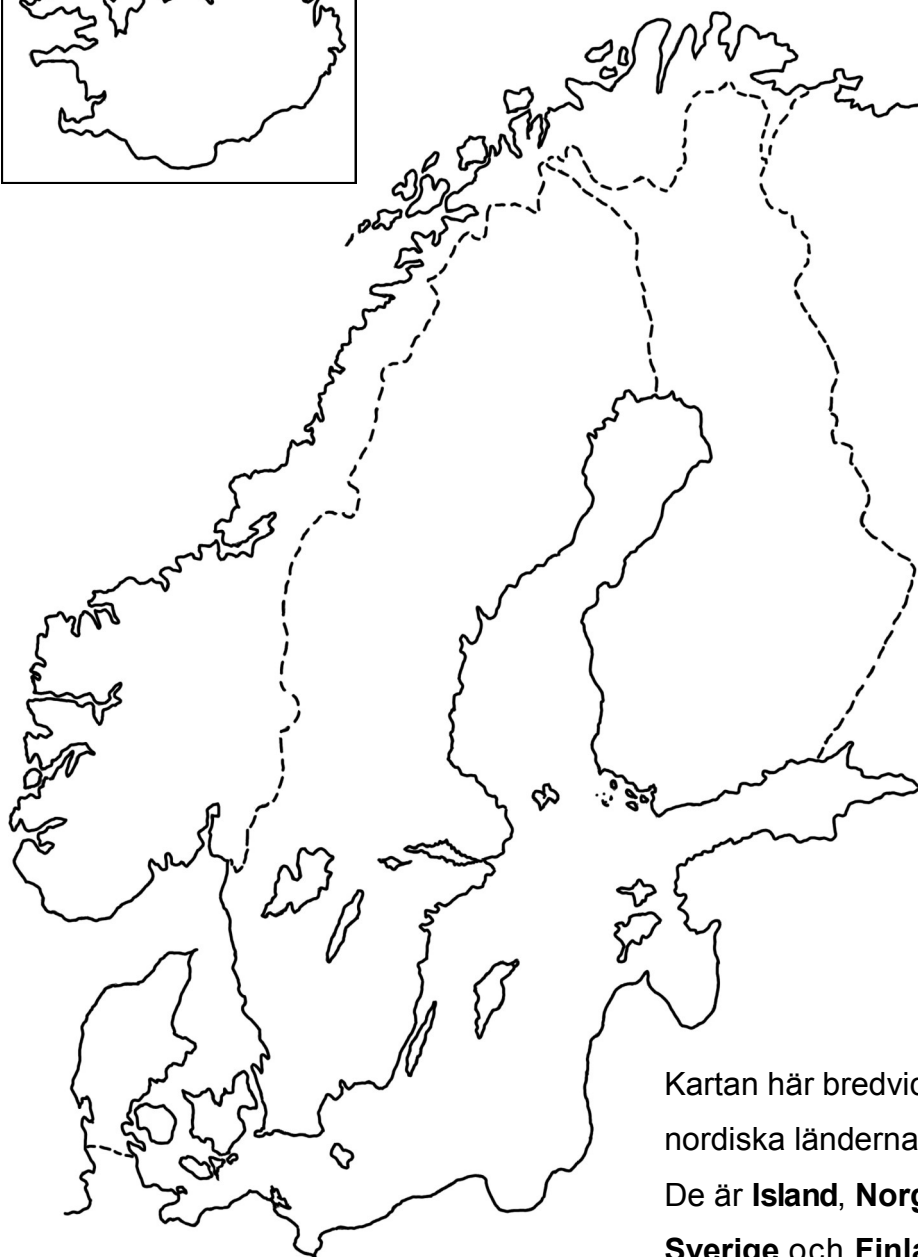
5. Vilken breddgrad har fått gradtalet 0° ?

6. Rita ut ekvatorn, nollmeridianen, två vändkretsar och två polcirklar på kartan.
Skriv även in namnen på kartan.





Karta över Nordens länder



Kartan här bredvid visar de nordiska länderna.

De är **Island**, **Norge**, **Danmark**, **Sverige** och **Finland**. De brukar tillsammans kallas för **Norden**.

Använd din kartbok när du löser uppgifterna.

1. Sätt ut namnen på de fem nordiska länderna på kartan.
2. Markera de fem nordiska ländernas huvudstäder på kartan och skriv även ut deras namn.
3. Måla länderna i olika färger.
4. Sätt ut följande hav på kartan:

Norska havet, Östersjön, Bottenhavet, Bottenviken, Finska viken, Kattegatt och Skagerrak.

1. I vilka fyra länder bor det samer? _____

2. Vad kallas det landområde där samerna bor?

3. I vilket av de fyra länderna bor det flest samer? _____

Samiska är flera olika språk

4. Vilka två språk är samiskan släkt med? _____

5. Vilka olika samiska språk känner du till? _____

Samiska är ett minoritetsspråk

6. Hur kommer det sig att många samiska vuxna inte talar samiska så bra?

Samernas historia

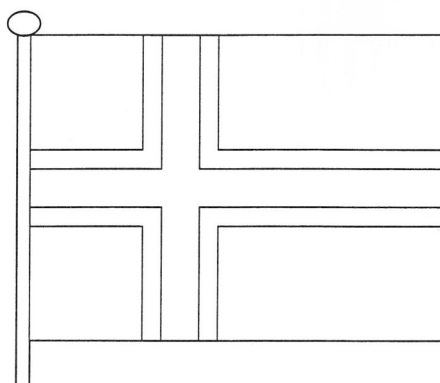
7. Vad menas med att samerna är en ursprungsbefolkning?

Samerna blir renskötare - Samernas liv idag

8. Varför var samerna nomader förr i tiden? _____

9. Vilka hjälpmedel har de samer som är renskötare idag?

Måla Islands flagga.

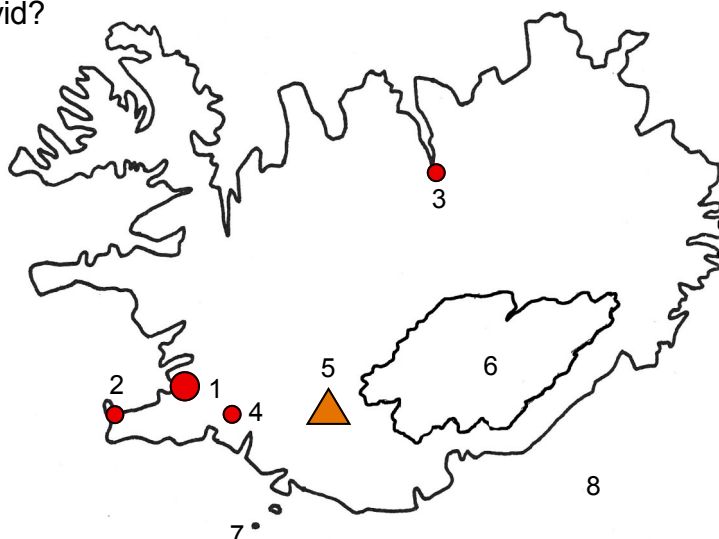


Islands karta

Ta fram din kartbok och slå upp **Island**.

Vilka platser är markerade på kartan här bredvid?

- | | | |
|----|--------------|---------|
| 1. | <u> R </u> | tätort |
| 2. | <u> K </u> | tätort |
| 3. | <u> A </u> | tätort |
| 4. | <u> S </u> | tätort |
| 5. | <u> H </u> | vulkan |
| 6. | <u> V </u> | glaciär |
| 7. | <u> S </u> | ö |
| 8. | <u> A </u> | vatten |




Klimat - Natur

1. Förklara med egna ord hur Island har bildats.

2. Hur kan Islands kust vara över 500 mil lång?

3. Beskriv Islands klimat.



Naturtillgångar - Aluminium

1. Vilka fisksorter kan finnas i fångsten som de isländska fiskebåtarna tar upp?

2. Varför har fårskötsel blivit en viktig näring på Island?

3. Vilka olika saker kan man tillverka av aluminium?


4. Hur får Island energi till den energikrävande tillverkningen av aluminium?

5. Fyll i tabellen nedan om Islands naturtillgångar, näringar och varor.

En del saker är ifyllda.

Men några rutor saknar text.

Skriv in vad som saknas.



Naturtillgång	Näring	Varor
	fårskötsel	
heta källor	värmekraftverk	
	fiskeindustri	
heta källor		läsk- och ölburkar

Viktiga städer och platser

6. Hur har staden Reykjavik fått sitt namn?


Vulkaner och heta källor - Islandshästar - Vikingarna upptäcker Amerika**- Island är en republik**

1. Förklara vad en gejser är för något.

2. Vilka globala problem kan ett vulkanutbrott orsaka?

3. Vilka problem tror du ett vulkanutbrott kan orsaka för islänningarna?

4. Berätta tre fakta om islandshästen.



5. **ORDFLÄTA.** Kan du hitta TIO ord i ordflätan som för tankarna till isländska platser, saker och begrepp?

A	S	E	R	Y	F	G	T	Ö	L	T	S
O	K	K	E	V	U	L	K	A	N	O	U
R	E	P	U	B	L	I	K	S	E	R	R
Ö	I	S	L	A	N	D	S	H	Ä	S	T
P	S	G	E	J	S	E	R	L	P	K	S
N	I	A	L	L	T	I	N	G	E	T	E
W	R	E	Y	K	J	A	V	I	K	V	Y
S	B	U	A	L	U	M	I	N	I	U	M

